

21  
Sejarah  
Ogos  
2008  
1¼ jam

PEPERIKSAAN PERCUBAAN  
PENILAIAN MENENGAH RENDAH  
NEGERI PERAK  
2008

---

---

SEJARAH

Satu jam lima belas minit

---

---

JANGAN BUKA KERTAS SOALAN INI SEHINGGA DIBERITAHU

1. *Kertas soalan ini mengandungi 60 soalan.*
2. *Jawab semua soalan.*
3. *Jawab dengan menghitamkan ruangan yang betul pada kertas jawapan.*
4. *Hitamkan satu ruangan sahaja bagi setiap jawapan.*
5. *Sekiranya anda hendak menukar jawapan, padamkan tanda yang telah dibuat. Kemudian hitamkan jawapan yang baru.*

---

Kertas soalan ini mengandungi 16 halaman bercetak.

Sejarah ditulis berasaskan kajian terhadap sumber sejarah seperti artifak, dokumen, peta, manuskrip dan sumber lisan.

- 1 Apakah maksud perkataan artifak?
  - A Bahan tulisan tangan
  - B Bahan yang telah dicetak
  - C Barangan ciptaan manusia
  - D Barangan yang telah diolah
  
- 2 Antara berikut yang manakah sumber kedua?
  - I Diari
  - II Buku
  - III Ensiklopedia
  - IV Surat peribadi
  - A I dan II
  - B II dan III
  - C III dan IV
  - D I dan IV
  
- 3 Apakah faedah kita mempelajari sejarah?
  - I Menjadi panduan
  - II Memberi iktibar
  - III Menghargai perjuangan penjajah
  - IV Memupuk semangat cinta akan tanah air
  - A I, II dan III
  - B I, II dan IV
  - C I, III dan IV
  - D II, III dan IV
  
- 4 Apakah persamaan ciri-ciri masyarakat Zaman Neolitik dan Zaman Logam?
  - A Menghasilkan alat logam
  - B Mencipta peralatan tembikar
  - C Mencipta barang-barang kemas
  - D Menjalankan perdagangan tukar barang
  
- 5 Bagaimanakah cara Kerajaan Srivijaya mengawal seluruh kegiatan maritim di Kepulauan Melayu?
  - A Mendapatkan barang dari kawasan pedalaman
  - B Menakluk kawasan berhampiran
  - C Menguasai laluan perdagangan
  - D Menjalin hubungan diplomasi


- Wang perak zaman Sultan al-Mutawakil
- Manik dari India
- Barangan kaca dari Timur Tengah

6 Penemuan di atas membuktikan kegemilangan sebuah kerajaan awal. Apakah kerajaan tersebut ?

- A Champa
- B Srivijaya
- C Majapahit
- D Kedah Tua

7 Apakah langkah-langkah yang dilaksanakan oleh Parameswara untuk membangunkan Melaka?

- I Sistem pemerintahan teratur
  - II Hubungan diplomatik
  - III Ikatan konsep daulat
  - IV Dasar perluasan kuasa
- A I, II dan III
  - B I, II dan IV
  - C I, III dan IV
  - D II, III dan IV



8 Gambar di atas menunjukkan sebuah jong yang terdapat di Melaka. Apakah kegunaan jong?

- A Memunggah barang dari kapal pedagang
- B Memunggah barang dari pelabuhan ke tempat lain
- C Mengangkut barang dari pedalaman ke pelabuhan
- D Mengangkut barang dari kapal pedagang ke daratan

- |                                                                                                                                                               |
|---------------------------------------------------------------------------------------------------------------------------------------------------------------|
| <p><b>Faktor kejatuhan Melaka</b></p> <ul style="list-style-type: none"> <li>• Kelemahan kepimpinan</li> <li>• Kelemahan askar Melaka</li> <li>• X</li> </ul> |
|---------------------------------------------------------------------------------------------------------------------------------------------------------------|

9 Apakah X?

- A Perang saudara
- B Ancaman Siam
- C Masalah perpaduan
- D Masalah pelanunan

- Tun Sri Lanang
- Laksamana Tun Abdul Jamil

- 10 Senarai di atas merupakan pembesar Johor yang telah berjasa kepada kerajaan Johor. Apakah jasa kedua-dua pembesar tersebut?
- A Menakluki Aceh
  - B Mengembangkan agama Islam
  - C Memajukan perdagangan di Johor
  - D Menawan semula Melaka daripada Portugis
- 11 Raja Muzaffar telah membawa bersama alat kebesaran negeri Melaka semasa pertabalan di Perak. Apakah alat kebesaran negeri tersebut?
- A Mahkota diraja
  - B Cura Si Manjakini
  - C Keris bertatah permata
  - D Payung berwarna kuning
- 12 Apakah Undang-undang yang dihafal secara turun-temurun oleh masyarakat Melayu?
- A Undang-undang Bertulis
  - B Undang-undang Kedah
  - C Undang-undang Adat
  - D Hukum Kanun Melaka

- Taat setia
- Sedia berkorban
- Berganding bahu

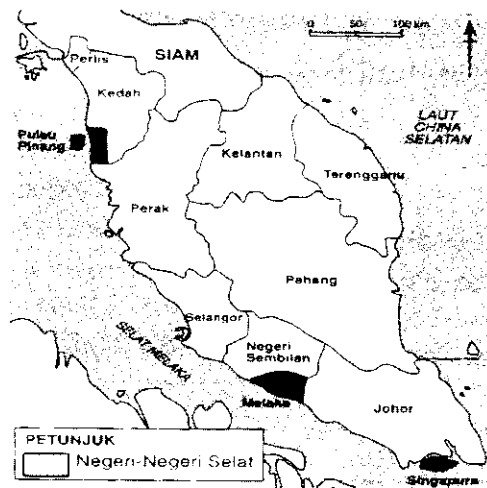
- 13 Masyarakat Melayu mengamalkan nilai-nilai di atas untuk membantu pemerintah. Apakah sistem yang mengandungi nilai-nilai di atas?
- A Sistem serah
  - B Sistem kerah
  - C Sistem paksa
  - D Sistem perintah
- 14 Salah satu amalan masyarakat Melayu tradisional ialah menghormati jiran. Mengapakah amalan tersebut diutamakan?
- A Dianggap keluarga terdekat
  - B Supaya disegani masyarakat
  - C Menjadi adat penduduk tempatan
  - D Tanggungjawab sebagai anggota masyarakat

Tokoh X

- Menyelesaikan masalah perkahwinan
- Menetapkan tarikh Hari Gawai
- Menetapkan tarikh perayaan Beranyi

15 Tokoh X memainkan peranan yang penting dalam masyarakat Bumiputera Sarawak. Siapakah tokoh X?

- A Tuai rumah
- B Tuan rumah
- C Ketua Suku
- D Ketua Gawai



16 Negeri-negeri Selat yang berlorek pada peta di atas pernah dijajah oleh pihak British. Di manakah pusat pentadbiran negeri-negeri tersebut mulai 1867?

- A Goa
- B Canton
- C London
- D Bombay

17 Antara berikut, yang manakah merupakan faktor-faktor yang membawa kepada campur tangan British di negeri-negeri Melayu?

- I Perkongsian kuasa
- II Kekayaan hasil bumi
- III Revolusi Perindustrian
- IV Pembukaan Terusan Suez

- A I, II dan III
- B I, II dan IV
- C I, III dan IV
- D II, III dan IV

Tokoh	Negeri
Tengku Kudin	Selangor
Dato' Kelana Sg. Ujong	Negeri Sembilan

18 Apakah persamaan antara kedua-dua tokoh tersebut?

- A Dibuang negeri
- B Dihukum bunuh
- C Dikenakan denda
- D Dibantu oleh British

<ul style="list-style-type: none"> <li>● Perlis</li> <li>● Kedah</li> <li>● Kelantan</li> <li>● Terengganu</li> </ul>
-----------------------------------------------------------------------------------------------------------------------

19 Mengapakah Negeri-negeri Melayu Utara tidak lagi menghantar bunga emas ke Siam selepas tahun 1909?

- A Menjadi negeri naungan British
- B Menjalin hubungan baik dengan Siam
- C Mempunyai angkatan tentera yang kuat
- D Mengalami kekurangan hasil dalam negeri

Negeri	Penasihat British
Kedah	George Maxwell
Perlis	Kapten Meadowe Frost
Kelantan	J.S. Mason

20 Jadual di atas adalah Penasihat British yang dilantik di Negeri-negeri Melayu Utara. Apakah peranan mereka?

- A Melantik pembesar tempatan
- B Memperkenalkan pendidikan Barat
- C Mempengerusikan mesyuarat negeri
- D Menasihati sultan dalam pentadbiran

Pada tahun 1830-an, Sultan Brunei melantik Pangeran Indera Mahkota untuk mentadbir Sarawak.
---------------------------------------------------------------------------------------------

21 Mengapakah Sultan Brunei bertindak demikian?

- A Mengukuhkan pengaruh
- B Menguasai hasil petroleum
- C Melumpuhkan kegiatan lanun
- D Menghapuskan pemberontakan

Tahun	Peristiwa
1830-an	Penentangan rakyat Sarawak terhadap pemerintahan Pangeran Indera Mahkota

22 Apakah kesan peristiwa tersebut ke atas Sarawak?

- A Dibantu oleh Brunei
- B Ditadbir oleh James Brooke
- C Dibahagi kepada dua bahagian
- D Diperintah oleh pembesar tempatan

- Cukai tanah
- Cukai kepala
- Lesen perahu

23 Apakah tujuan pengenalan cukai oleh Syarikat Borneo Utara British (SBUB) kepada penduduk Sabah?

- A Membiayai kos pertahanan
- B Mengatasi masalah kewangan
- C Mendenda penduduk tempatan
- D Membiayai kos pmbinaan kemudahan asas

British telah memperkenalkan tanaman baru untuk mengukuhkan ekonomi mereka.

24 Apakah tanaman baru yang diperkenalkan?

- I Kopi
  - II Tembakau
  - III Lada hitam
  - IV Kelapa sawit
- A I, II dan III
  - B I, II dan IV
  - C I, III dan IV
  - D II, III dan IV

25 Apakah yang menyebabkan penanaman getah telah berkembang dengan pesat pada awal kurun ke-20?

- A Pengambilan buruh India
- B Penurunan kadar cukai eksport
- C Penubuhan pusat penyelidikan getah
- D Perkembangan perusahaan membuat kereta

“Saya mulakan pelajaran di sebuah sekolah yang berbumbung atap dan berlantai tanah. Masih jelas terasa lantai tanah di kaki saya yang tak berkasut ”.

26 Siapakah tokoh yang menuturkan kata-kata di atas?

- A Tunku Abdul Rahman
- B Dato' Onn Ja'afar
- C Tun Abdul Razak
- D Tun Dr. Ismail

Tahun	Sekolah	Pelajar
1905	Kolej Melayu Kuala Kangsar	<ul style="list-style-type: none"> <li>• Anak-anak raja</li> <li>• Golongan bangsawan</li> </ul>

- 27 Apakah tujuan penubuhan kolej tersebut?
- A Melatih pelajar berkhidmat dengan kerajaan British  
 B Memupuk semangat nasionalisme Melayu  
 C Mendorong pelajar berdikari  
 D Melahirkan tenaga pengajar

- 28 Apakah faktor penentangan Dol Said di Naning?
- A Peraturan menyimpan hamba abdi  
 B Pembayaran cukai kepada British  
 C Peraturan pembukaan tanah baru  
 D Pelucutan gelaran penghulu

Tindakan James Brooke
<ul style="list-style-type: none"> <li>• Menganggap orang Iban sebagai lanun</li> <li>• Menghapuskan penempatan orang Iban di Sungai Skrang</li> <li>• Mendirikan kubu di Nanga Skrang</li> </ul>

- 29 Siapakah yang tidak berpuas hati dengan tindakan di atas?
- A Rentap  
 B Antanom  
 C Mat Salleh  
 D Sharif Masahor

Salah satu sebab penduduk Perak bangun menentang British adalah kerana mereka tidak menyukai J.W.W Birch.

- 30 Mengapakah J.W.W Birch tidak disukai?
- I Menyerang rumah api di Pasir Salak  
 II Mengharamkan amalan perhambaan  
 III Mencampuri adat resam orang Melayu  
 IV Mengambil alih kuasa memungut cukai
- A I, II dan III  
 B I, II dan IV  
 C I, III dan IV  
 D II, III dan IV
- 31 British telah memaksa Sultan Wan Ahmad menamatkan kebangkitan rakyat Pahang. Apakah nama pasukan tentera yang ditubuhkan untuk tujuan tersebut?
- A Force 136  
 B Gerakan Gerila  
 C Gerakan Sultan  
 D Askar Melayu Setia



- 32 Apakah faktor penentangan Tok Janggut di Kelantan?
- A Pelaksanaan pas kebenaran
  - B Pencerobohan kawasan hutan
  - C Penglibatan pemimpin agama
  - D Pengenal cukai yang membebankan

<b>Tokoh-tokoh Pejuang Tanah air</b>
<ul style="list-style-type: none"> <li>• Tok Janggut</li> <li>• Dol Said</li> <li>• Sharif Masahor</li> </ul>

- 33 Apakah nilai yang dapat anda contohi daripada perjuangan tokoh-tokoh di atas?
- A Kebanggaan
  - B Kesyukuran
  - C Keberanian
  - D Keadilan
- 34 Antara berikut, apakah saranan Akhbar al-Imam?
- I Mengetepikan kepercayaan karut
  - II Menekankan kepentingan ilmu pengetahuan
  - III Menyeru orang Melayu berpegang kepada al-Quran
  - IV Menyeru orang Melayu bangun menentang penjajah
- A I, II dan III
  - B I, II dan IV
  - C I, III dan IV
  - D II, III dan IV

<ul style="list-style-type: none"> <li>• Tenaga Kaumku</li> <li>• Bangkitlah</li> <li>• Dunia yang Fana</li> </ul>
--------------------------------------------------------------------------------------------------------------------

- 35 Puisi-puisi di atas dihasilkan sebelum Perang Dunia Kedua. Apakah tema yang disampaikan dalam puisi-puisi tersebut?
- I Menyuburkan perasaan patriotisme
  - II Merebut peluang ekonomi
  - III Mempertahankan maruah bangsa
  - IV Menggalakkan gerakan bersenjata
- A I, II dan III
  - B I, II dan IV
  - C I, III dan IV
  - D II, III dan IV

Bandar	Taktik
Kuala Krai Miri	Jambatan Guillemard diletupkan Telaga minyak dibakar

36 Taktik di atas digunakan oleh British semasa berundur akibat serangan tentera Jepun. Apakah taktik yang dimaksudkan?

- A Zero Fighter
- B Bumi Hangus
- C Perang Gerila
- D Pecah dan Perintah

- |                                                                                                                     |
|---------------------------------------------------------------------------------------------------------------------|
| <ul style="list-style-type: none"> <li>• Pekedai runcit</li> <li>• Tukang gambar</li> <li>• Penarik beca</li> </ul> |
|---------------------------------------------------------------------------------------------------------------------|

37 Anggota tentera dan rakyat Jepun di Tanah Melayu telah menyamar membuat kerja-kerja di atas. Apakah tujuan mereka berbuat demikian?

- A Menjalankan perisikan
- B Menjadi penyelamat
- C Melaksanakan pentadbiran
- D Menyalur kepakaran

Koa Kunrenjo
--------------

38 Apakah tujuan Jepun menubuhkan institusi di atas?

- A Memberi latihan ketenteraan
- B Menyeragamkan sistem pentadbiran
- C Mengatasi kekurangan pegawai awam
- D Memupuk kesetiaan kepada Maharaja Jepun

Jenis Barang : Gula	
Tahun	Harga
Disember 1941	8 sen
Disember 1943	\$ 3.80 sen
Ogos 1945	\$ 120.00

39 Jadual di atas menunjukkan harga gula semasa pentadbiran Jepun di Tanah Melayu. Mengapakah berlaku peningkatan harga gula?

- I Kawalan barangan
  - II Kekurangan makanan
  - III Mengaut keuntungan
  - IV Persaingan barangan luar
- A I dan II
  - B II dan III
  - C III dan IV
  - D I dan IV

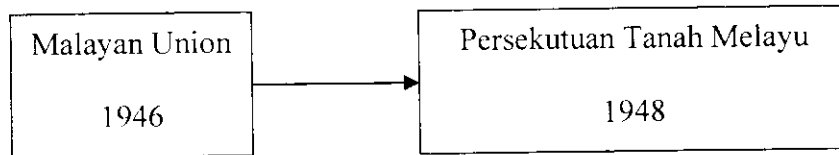
- 40 Apakah industri baru yang muncul semasa pendudukan Jepun di Tanah Melayu?
- I Kertas daripada daun nipah
  - II Bahan api daripada susu getah
  - III Tali kapal daripada sabut kelapa
  - IV Lori berkuasa wap menggunakan arang
- A I, II dan III
  - B I, II dan IV
  - C I, III dan IV
  - D II, III dan IV
- 41 Kekalahan Jepun menyebabkan berlaku kekosongan politik selama 14 hari di Tanah Melayu. Apakah kuasa yang mengambil kesempatan mengisi kekosongan tersebut?
- A Pentadbiran Tentera British
  - B Kesatuan Melayu Muda
  - C Malayan Union
  - D Bintang Tiga

Status Tanah Melayu	
Sebelum 1946	Selepas 1946
Negeri Naungan	X

- 42 Pentadbiran Malayan Union telah mengubah status Tanah Melayu. Apakah X?
- A Persekutuan Tanah Melayu
  - B Demokrasi Berparlimen
  - C Tanah Jajahan Mahkota
  - D Negara Merdeka

Reaksi orang Melayu terhadap Malayan Union	
Menyokong	Menentang
X	UMNO

- 43 Apakah parti-parti yang menyokong penubuhan Malayan Union?
- I Pembela Tanah Air (PETA)
  - II Angkatan Pemuda Insaf (API)
  - III Barisan Tani Malaya (BATAS)
  - IV Parti Kebangsaan Melayu Malaya (PKMM)
- A I, II dan III
  - B I, II dan IV
  - C I, III dan IV
  - D II, III dan IV



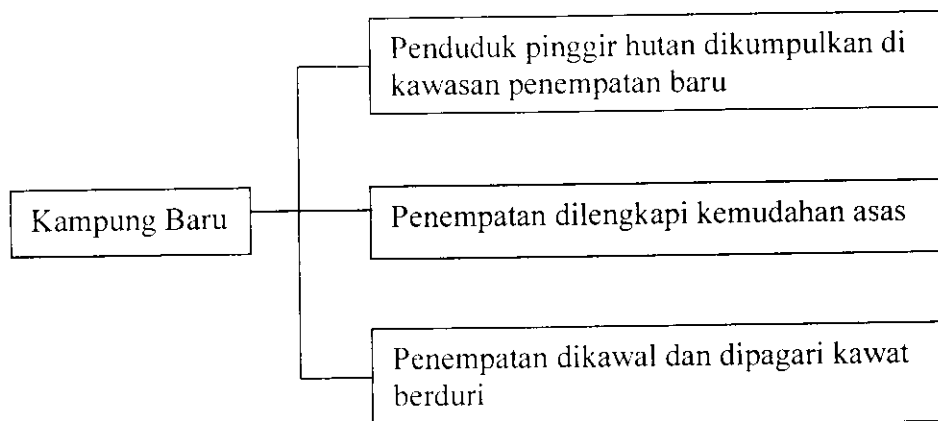
44 Rajah di atas menunjukkan perubahan pentadbiran di Tanah Melayu. Mengapakah British bertindak demikian?

- I Menjimatkan kos pentadbiran
  - II Menyekat pengaruh komunis
  - III Menjalankan dasar dekolonisasi
  - IV Mengatasi kebangkitan golongan raja
- A I dan II
  - B II dan III
  - C III dan IV
  - D I dan IV

PKM telah melancarkan satu mogok besar pada tahun 1935 di sebuah **kawasan lombong**.

45 Di manakah kawasan lombong tersebut?

- A Taiping, Perak.
- B Kelang, Selangor.
- C Batu Gajah, Perak.
- D Batu Arang, Selangor.



46 Apakah tujuan rancangan di atas?

- A Memusnahkan kubu komunis
- B Membela nasib penduduk tempatan
- C Melumpuhkan Gerakan Min Yuen
- D Mendapatkan sokongan orang Cina

Perang Saraf ialah rancangan British untuk menghapuskan pengganas komunis.

- 47 Apakah langkah yang diambil dalam Perang Saraf?
- I Penawaran hadiah
  - II Pengedaran risalah
  - III Menubuhkan kampung baru
  - IV Melonggarkan syarat kewarganegaraan
- A I, II dan III
  - B I, II dan IV
  - C I, III dan IV
  - D II, III dan IV
- 48 Antara berikut yang manakah kesan-kesan darurat di Tanah Melayu?
- I Rakyat menderita
  - II Kemusnahan harta benda
  - III Syarat-syarat kerakyatan diperketatkan
  - IV Mempercepatkan proses berkerajaan sendiri
- A I, II dan III
  - B I, II dan IV
  - C I, III dan IV
  - D II, III dan IV

**1949 – Penubuhan Community Liaison Committee ( CLC )**

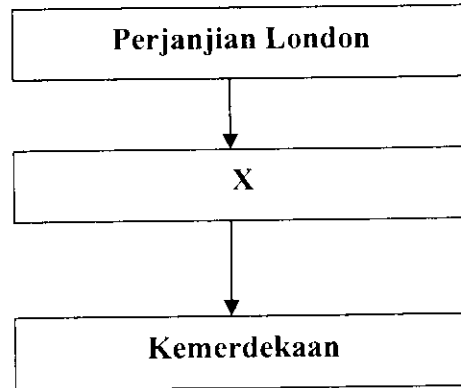
- 49 Apakah tujuan Jawatankuasa di atas dibentuk?
- A Mencapai perpaduan kaum
  - B Mendorong pertumbuhan ekonomi
  - C Mengukuhkan kekuasaan British
  - D Mempertahankan ketuanan Melayu
- 50 Apakah syarat yang diberikan oleh British jika Tanah Melayu ingin mencapai kemerdekaan?
- A Kewibawaan pemimpin
  - B Kerjasama antara kaum
  - C Kemasukan pelabur asing
  - D Kedudukan sultan terjamin

Tahun	Parti Politik	Perkara
1954	Parti Perikatan	Konvensi Nasional
1954	Parti Kemerdekaan Tanah Melayu (IMP)	Konferensi Nasional

- 51 Jadual di atas menunjukkan persidangan parti-parti politik di Tanah Melayu. Apakah persamaan tuntutan kedua-dua parti tersebut?
- A Memperketatkan syarat kerakyatan
  - B Mengadakan pilihan raya
  - C Menuntut kemerdekaan
  - D Menamatkan darurat

**1956 – Perjanjian London**

- 52 Mengapakah Perjanjian London dianggap satu kejayaan cemerlang bagi Parti Perikatan?
- A Pengiktirafan sebagai parti yang sah
  - B Pembentukan sebuah kerajaan
  - C Penetapan tarikh kemerdekaan
  - D Penetapan tarikh pilihan raya



- 53 Berdasarkan rajah di atas, apakah X?
- I Perniagaan British dikekalkan
  - II Perkongsian kuasa dengan British
  - III Perhubungan dengan kuasa lain dielakkan
  - IV Perjanjian pertahanan dengan British ditandatangani
- A I dan II
  - B II dan III
  - C III dan IV
  - D I dan IV

**Pemasyhuran Kemerdekaan**

“Bahawasanya kerana telah tibalah masanya bagi umat Persekutuan Tanah Melayu ini mencapai taraf suatu bangsa yang merdeka lagi berdaulat sama setimpal kedudukannya dengan segala bangsa di seluruh dunia”.

- 54 Petikan di atas telah dibaca oleh Tunku Abdul Rahman di Stadium Merdeka pada 31 Ogos 1957.  
Apakah maksud **“mencapai taraf suatu bangsa yang merdeka lagi berdaulat”** dalam pemasyhuran di atas?
- I Tanda pembebasan negara
  - II Tertakluk kepada Parlimen British
  - III Tidak dikuasai oleh orang lain
  - IV Bebas menentukan bentuk pemerintahan
- A I, II dan III
  - B I, II dan IV
  - C I, III dan IV
  - D II, III dan IV

Charles Vyner Brooke telah didesak oleh kerajaan British supaya menyerahkan Sarawak.

- 55 Mengapakah kerajaan British berbuat demikian?
- A Melindungi penduduk tempatan
  - B Mengelak campur tangan kuasa lain
  - C Memastikan pelaburan mereka terjamin
  - D Menyingkirkan pentadbiran Anthony Brooke



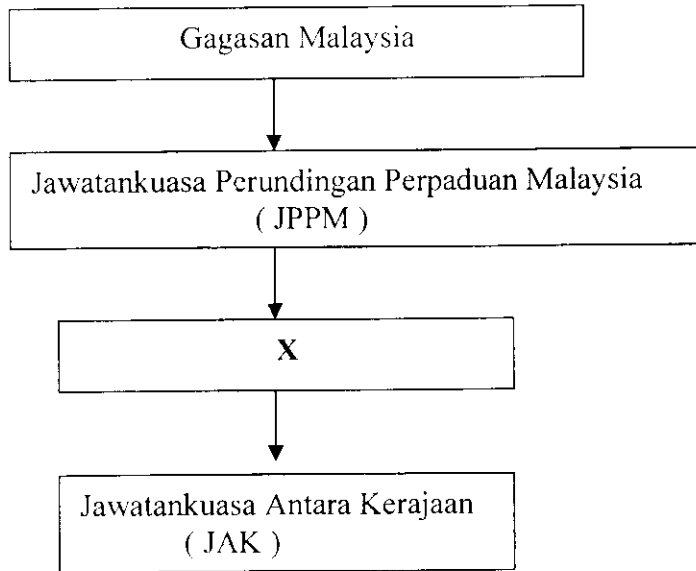
- 56 Gambar di atas menunjukkan rakyat Sarawak membawa sepanduk-sepanduk. Mengapakah mereka berbuat demikian?
- A Menentang penyerahan Sarawak kepada British
  - B Mengekalkan pemerintahan keluarga Brooke
  - C Membantah pelantikan Raja Sarawak
  - D Membela nasib pembesar Sarawak

Penyerahan Sabah kepada kerajaan British tidak mendapat tentangan hebat daripada penduduk tempatan. Pertubuhan yang wujud hanya memperjuangkan untuk membaiki keadaan politik dan ekonomi.

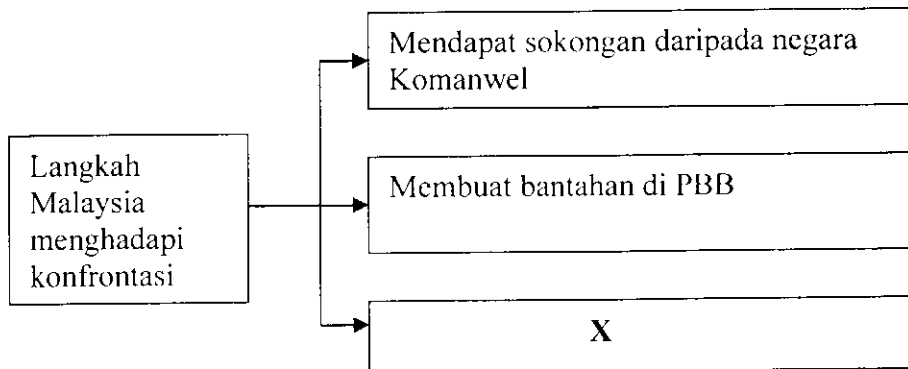
- 57 Apakah pertubuhan yang dimaksudkan?
- I Pertubuhan Kebangsaan Kadazan Bersatu (UNKO)
  - II Pertubuhan Kebangsaan Sabah Bersatu (USNO)
  - III Persatuan Kebangsaan Melayu Labuan (PKML)
  - IV Barisan Pemuda (BARIP)
- A I dan II
  - B II dan III
  - C III dan IV
  - D I dan IV

Parti Bersatu Rakyat Sarawak ( SUPP )	
Tarikh penubuhan :	12 Jun 1959
Pemimpin :	Ong Kee Hui dan Stephen Yong
Pendirian :	Menentang gagasan Malaysia

- 58 Parti di atas menentang pembentukan Malaysia kerana ingin
- A bergabung dengan Indonesia
  - B membentuk kerajaan sendiri
  - C menyekat pergerakan Komunis
  - D bersatu dengan Sabah dan Brunei



- 59 Rajah di atas menerangkan langkah ke arah pembentukan Persekutuan Malaysia 1963. Apakah X?
- A Suruhanjaya PBB
  - B Suruhanjaya Reid
  - C Suruhanjaya Cobbold
  - D Referendum Singapura



- 60 Apakah X?
- A Melancarkan serangan
  - B Mengisytiharkan darurat
  - C Melaksanakan dasar berkecuali
  - D Menyusun semula pasukan pertahanan tempatan